



केन्द्रीय रिजर्व पुलिस बल CENTRAL RESERVE POLICE FORCE

Test Date	28/02/2023
Test Time	12:30 PM - 02:00 PM
Subject	Head Constable Ministerial

Section : Hindi Language

Q.1 'सारंग' शब्द किसका पर्यायवाची है?

- Ans
- A. जलधि
 - B. चंद्रमा
 - C. दहन
 - D. नलिन



Question ID : 630680179286

Status : Not Answered

Chosen Option : --

Q.2 संबंधबोधक अव्यय कौन - से विकल्प में प्रयोग हुआ है ?

- Ans
- A. दरवाजे के पीछे बैठ जाओ।
 - B. यद्यपि वह गरीब है तथापि है ईमानदार।
 - C. रमेश बाहर चला आया।
 - D. वह भीतर गया।

Question ID : 630680179354

Status : Not Answered

Chosen Option : --

Q.3 उपरोक्त वाक्य में रेखांकित पद की वर्तनी शुद्ध कीजिए।
वह बहुत इर्ष्यालू औरत है।

- Ans
- A. वह बहुत ईर्ष्यालू औरत है।
 - B. वह बहुत ईर्ष्यालू औरत है।
 - C. वह बहुत ईर्ष्याली औरत है।
 - D. वह बहुत ईर्ष्यालू औरत है।

Question ID : 630680179296

Status : Not Answered

Chosen Option : --

Q.4 अशुद्ध वर्तनी वाला वाक्य छाँटिए।

- Ans
- A. कृष्ण पीतांबर धारण करते हैं।
 - B. मैंने उनकी प्रतीक्षा की।
 - C. सामाजिक कुरितीयों का एकमात्र कारण अज्ञान है।
 - D. मेरी पूजनीया माँ चल बसी।

Question ID : 630680179298

Status : Not Answered

Chosen Option : --

Q.5 निम्न वाक्य में अवकाशबोधक संयुक्त क्रिया पद भरिए।
वह मुश्किल से _____।

- Ans
- A. सोने पाया
 - B. लिख मारी
 - C. करने दिया गया
 - D. दिया गया

Question ID : 630680179327

Status : Not Answered

Chosen Option : --

Q.6 'याद आना' के अर्थ में निम्नलिखित में से किस मुहावरे का प्रयोग होगा।

- Ans
- A. गॉठ में बाँधना
 - B. चाँद खुजलाना
 - C. ज़बान काट कर देना
 - D. ज़बान पर चढ़ना

INDIA

Question ID : 630680177061

Status : Not Answered

Chosen Option : --

Q.7 निम्न में से कौन-सा वाक्य आसन्न भूत का उदाहरण है।

- Ans
- A. मैं आज अपनी पसंद का खाना खा चुका हूँ।
 - B. मैंने आज अपनी पसंद का खाना खाया था।
 - C. मैंने आज अपनी पसंद का खाना खाया है।
 - D. मैंने आज अपनी पसंद का खाना खाया होगा।

Question ID : 630680177107

Status : Not Answered

Chosen Option : --

Q.8 हेतुहेतुमद भूतकाल का वाक्य छाँटिए।

- Ans A. रामचंद्र ने लंका पर चढ़ाई की थी।
 B. महेश ने रोटी खाई।
 C. यदि तुम समय पर न पहुँचते तो पैसा न मिलता।
 D. लड़कों ने अच्छा काम किया है।

Question ID : 630680179349
Status : Not Answered
Chosen Option : --

Q.9 वाक्य के रिक्त स्थान के लिए उपयुक्त विकल्प चुनकर वाक्य पूर्ण करें।
पहलवान खली का _____ कई कारनामों से प्रमाणित हुआ।

- Ans A. पौरुष
 B. विकास
 C. तेज
 D. ओज

Question ID : 630680177084
Status : Not Answered
Chosen Option : --

Q.10 वाक्य के रिक्त स्थान के लिए उपयुक्त विकल्प चुनकर वाक्य पूर्ण करें।
दुल्हन के पिता ने बरात का _____ फूलमालाओं और तिलक से किया।

- Ans A. अपमान
 B. स्वागत
 C. अभिनंदन
 D. अभिवादन

INDIA

Question ID : 630680177077
Status : Not Answered
Chosen Option : --

Q.11 निम्न में से नित्यताबोधक संयुक्त क्रिया का उदाहरण है।

- Ans A. पानी बरसने लगा।
 B. हवा चल रही है।
 C. वह खा चुका है।
 D. वह जाने न पाया।

Question ID : 630680177122
Status : Not Answered
Chosen Option : --

Q.12 कौन - से विकल्प में 'ग्रहण' का विलोम लिखा गया है ?

- Ans A. आदान
 B. आवाहन
 C. उत्थान
 D. अर्पण

Question ID : 630680179289
Status : Not Answered
Chosen Option : --

Q.13 निम्न विकल्पों में कौन - सा वाक्य विन्यास की दृष्टि से शुद्ध नहीं है ?

- Ans A. यह काम आप पर निर्भर है।
 B. ऐसी एकाध बातें और देखने में आती है।
 C. मैं आपके दर्शन करने आया हूँ।
 D. हमारे शिक्षक प्रश्न करते हैं।

Question ID : 630680179315
Status : Not Answered
Chosen Option : --

Q.14 शुद्ध वाक्य विन्यास वाला वाक्य छाँटिए।

- Ans A. एक पक्षी दूसरे का अनुसरण कर रहा था।
 B. बहुत से रूस के विद्वान यहाँ आए।
 C. मुझे एक चाय का प्याला दे दो।
 D. मैंने दौड़ते हुए आचार्य को देखा।

Question ID : 630680179329
Status : Not Answered
Chosen Option : --

Q.15 वाक्यविन्यास की दृष्टि से सही वाक्य छाँटिए।

- Ans A. उस लड़कों में एक अच्छा नहीं है।
 B. उनमें कुछ बे - वकूफ भी हैं।
 C. बुरा आदमी के साथ मत रहो।
 D. जो पुस्तक पसंद लगता है, पढ़ो।

Question ID : 630680179334
Status : Not Answered
Chosen Option : --

Q.16 निम्न विकल्पों में अशुद्ध वाक्य पहचानिए।

- Ans A. निरपराधी को दंड देना उचित नहीं।
 B. हिमालय पर बर्फ जमी रहती है।
 C. वहाँ घमासान लड़ाई हो रही है।
 D. उन्होंने अपनी कविता पढ़कर सुनाई।

Question ID : 630680179312
Status : Not Answered
Chosen Option : --

Q.17 वाक्य के रिक्त स्थान के लिए उपयुक्त विकल्प चुनकर वाक्य पूर्ण करें।
अंकलजी, हमारा _____ है कि आप कल के कार्यक्रम में अवश्य पधारें।

- Ans A. अनुरोध
 B. प्रार्थना
 C. अनुग्रह
 D. अनुमान

Question ID : 630680177099
Status : Not Answered
Chosen Option : --

Q.18 'अपने मतलब की बात करो' का अर्थ निम्नलिखित में से किस लोकोक्ति से अभिव्यंजित होता है।

- Ans A. आ बैल गले लग
 B. इतना खाए जितना पचे
 C. आम खाने से काम, पेड़ गिनने से क्या काम
 D. आपा तजे तो हरि को भजे

Question ID : 630680177066
Status : Not Answered
Chosen Option : --

Q.19 कौन – से वाक्य में 'पर' विभक्ति का प्रयोग मूल्य बताने के लिए हुआ है ?

- Ans A. दिन पर दिन वे बीतता गया।
 B. हमारे शिक्षक आज छुट्टी पर है।
 C. मैं तो लाखों पर भी ईमान नहीं बेच सका।
 D. इस बात पर वे झगड़ पड़े।

Question ID : 630680179360
Status : Not Answered
Chosen Option : --

Q.20 निम्नलिखित वाक्यों में अशुद्ध वाक्य विन्यास वाला वाक्य छाँटिए।

- Ans A. उन्होंने पाँच टन कोयला खरीदा।
 B. मुझे दो किलो मछली चाहिए।
 C. डाकूओं का गिरोह छुपा है।
 D. अंगूरों की गुच्छा सुंदर दिखती है।

Question ID : 630680179332
Status : Not Answered
Chosen Option : --

Comprehension:

नीचे दिए गये गद्य को पढ़े और पुछे गये प्रश्नों के उत्तर दे:

विद्यार्थियों में अनेक बुराइयाँ कुसंगति के प्रभाव से ही उत्पन्न होती हैं। जो विद्यार्थी पहले पढ़ाई में खूब रुचि लेता था, किंतु अब सिनेमा देखने में मस्त रहता है। निश्चित ही यह कुसंगति का प्रभाव है। शुरू में उसे कोई विद्यार्थी सिनेमा दिखाना प्रारंभ करता है, बाद में उसे सिनेमा देखने की आदत पड़ जाती है। यही हालत धूम्रपान करने वालों की होती है। जब उन्हें धूम्रपान की आदत पड़ जाती है, तब वह छूटने का नाम तक नहीं लेती। प्रारंभ में कुछ लोग शौकिया तौर पर बीड़ी – सिगरेट पीना प्रारंभ कर देते हैं। अंत में उसके आदी बन जाते हैं और लाख यत्न करने पर भी इससे पीछा नहीं छोड़ा पाते। इसीलिए तो पं. रामचंद्र शुक्ल ने कहा था कि कुसंग का ज्वर सबसे भयानक होता है। वह न केवल मान – मर्यादा का नाश करता है, बल्कि सात्विक चित्तवृत्ति को भी नष्ट कर देता है। जो भी कभी कुसंग के चक्कर में फँसा है, नष्ट हुए बिना नहीं रहा। कुमार्गगामी दूसरे को अपने जैसा बना लेता है।

SubQuestion No : 21

Q.21 मन के भाव, मन की अवस्था को सूचित करने के लिए कौन – सा शब्द प्रयुक्त है ?

- Ans A. चित्तवृत्ति
 B. कुसंगति
 C. सात्विक
 D. शौकिया

Question ID : 630680179386

Status : Not Answered

Chosen Option : --

Comprehension:

नीचे दिए गये गद्य को पढ़े और पुछे गये प्रश्नों के उत्तर दे:

विद्यार्थियों में अनेक बुराइयाँ कुसंगति के प्रभाव से ही उत्पन्न होती हैं। जो विद्यार्थी पहले पढ़ाई में खूब रुचि लेता था, किंतु अब सिनेमा देखने में मस्त रहता है। निश्चित ही यह कुसंगति का प्रभाव है। शुरू में उसे कोई विद्यार्थी सिनेमा दिखाना प्रारंभ करता है, बाद में उसे सिनेमा देखने की आदत पड़ जाती है। यही हालत धूम्रपान करने वालों की होती है। जब उन्हें धूम्रपान की आदत पड़ जाती है, तब वह छूटने का नाम तक नहीं लेती। प्रारंभ में कुछ लोग शौकिया तौर पर बीड़ी – सिगरेट पीना प्रारंभ कर देते हैं। अंत में उसके आदी बन जाते हैं और लाख यत्न करने पर भी इससे पीछा नहीं छोड़ा पाते। इसीलिए तो पं. रामचंद्र शुक्ल ने कहा था कि कुसंग का ज्वर सबसे भयानक होता है। वह न केवल मान – मर्यादा का नाश करता है, बल्कि सात्विक चित्तवृत्ति को भी नष्ट कर देता है। जो भी कभी कुसंग के चक्कर में फँसा है, नष्ट हुए बिना नहीं रहा। कुमार्गगामी दूसरे को अपने जैसा बना लेता है।

SubQuestion No : 22

Q.22 विद्यार्थियों में किसके कारण बुराइयाँ उत्पन्न होती हैं ?

- Ans A. सुसंगति के प्रभाव के कारण
 B. कुसंगति के प्रभाव के कारण
 C. मान – मर्यादा के प्रभाव के कारण
 D. सात्विक चित्तवृत्ति के प्रभाव के कारण

Question ID : 630680179384

Status : Not Answered

Chosen Option : --

Comprehension:

नीचे दिए गये गद्य को पढ़े और पुछे गये प्रश्नों के उत्तर दे:

विद्यार्थियों में अनेक बुराइयाँ कुसंगति के प्रभाव से ही उत्पन्न होती हैं। जो विद्यार्थी पहले पढ़ाई में खूब रुचि लेता था, किंतु अब सिनेमा देखने में मस्त रहता है। निश्चित ही यह कुसंगति का प्रभाव है। शुरू में उसे कोई विद्यार्थी सिनेमा दिखाना प्रारंभ करता है, बाद में उसे सिनेमा देखने की आदत पड़ जाती है। यही हालत धूम्रपान करने वालों की होती है। जब उन्हें धूम्रपान की आदत पड़ जाती है, तब वह छूटने का नाम तक नहीं लेती। प्रारंभ में कुछ लोग शौकिया तौर पर बीड़ी - सिगरेट पीना प्रारंभ कर देते हैं। अंत में उसके आदी बन जाते हैं और लाख यत्न करने पर भी इससे पीछा नहीं छोड़ा पाते। इसीलिए तो पं. रामचंद्र शुक्ल ने कहा था कि कुसंग का ज्वर सबसे भयानक होता है। वह न केवल मान - मर्यादा का नाश करता है, बल्कि सात्विक चित्तवृत्ति को भी नष्ट कर देता है। जो भी कभी कुसंग के चक्कर में फँसा है, नष्ट हुए बिना नहीं रहा। कुमार्गगामी दूसरे को अपने जैसा बना लेता है।

SubQuestion No : 23

Q.23 इस अवतरण का सारांश बताइए।

- Ans** A. विद्यार्थी अपने जीवन में अच्छे - बुरे कार्यों में लिप्त रहते हैं। उन्हें कुसंगति से सुसंगति अच्छी लगती है।
- B. सुसंगति और कुसंगति एक मुद्रा के दो पहलू हैं। विद्यार्थी कुसंगति की ओर ज्यादा रुचि रखते हैं, सुसंगति की ओर कम।
- C. कुसंगति से विद्यार्थी कुमार्गगामी हो जाते हैं। उसमें सारी बुराइयाँ घर कर लेती हैं। इससे मान - मर्यादा और सात्विक मनोभाव नष्ट हो जाता है।
- D. विद्यार्थियों पर कुसंगति का प्रभाव थोड़ा - बहुत पड़ता है। वे सिनेमा देखते हैं, धूम्रपान करते हैं और कुछ अच्छी आदतों को भी अपनाते हैं।

Question ID : 630680179387

Status : Not Answered

Chosen Option : --

Comprehension:

नीचे दिए गये गद्य को पढ़े और पुछे गये प्रश्नों के उत्तर दे:

विद्यार्थियों में अनेक बुराइयाँ कुसंगति के प्रभाव से ही उत्पन्न होती हैं। जो विद्यार्थी पहले पढ़ाई में खूब रुचि लेता था, किंतु अब सिनेमा देखने में मस्त रहता है। निश्चित ही यह कुसंगति का प्रभाव है। शुरू में उसे कोई विद्यार्थी सिनेमा दिखाना प्रारंभ करता है, बाद में उसे सिनेमा देखने की आदत पड़ जाती है। यही हालत धूम्रपान करने वालों की होती है। जब उन्हें धूम्रपान की आदत पड़ जाती है, तब वह छूटने का नाम तक नहीं लेती। प्रारंभ में कुछ लोग शौकिया तौर पर बीड़ी - सिगरेट पीना प्रारंभ कर देते हैं। अंत में उसके आदी बन जाते हैं और लाख यत्न करने पर भी इससे पीछा नहीं छोड़ा पाते। इसीलिए तो पं. रामचंद्र शुक्ल ने कहा था कि कुसंग का ज्वर सबसे भयानक होता है। वह न केवल मान - मर्यादा का नाश करता है, बल्कि सात्विक चित्तवृत्ति को भी नष्ट कर देता है। जो भी कभी कुसंग के चक्कर में फँसा है, नष्ट हुए बिना नहीं रहा। कुमार्गगामी दूसरे को अपने जैसा बना लेता है।

SubQuestion No : 24

Q.24 पं. रामचंद्र शुक्ल के कथनानुसार _____।

- Ans** A. विद्यार्थियों में बुराइयाँ कुसंगति से होती है।
- B. कुसंग का ज्वर भयानक होता है।
- C. विद्यार्थी अपनी मान - मर्यादा नष्ट करके सिनेमा देखते हैं और सिगरेट पीते हैं।
- D. कुसंग से व्यक्ति की हानि कम होती है।

Question ID : 630680179385

Status : Not Answered

Chosen Option : --

Comprehension:

नीचे दिए गये गद्य को पढ़े और पुछे गये प्रश्नों के उत्तर दे:

विद्यार्थियों में अनेक बुराइयाँ कुसंगति के प्रभाव से ही उत्पन्न होती हैं। जो विद्यार्थी पहले पढ़ाई में खूब रुचि लेता था, किंतु अब सिनेमा देखने में मस्त रहता है। निश्चित ही यह कुसंगति का प्रभाव है। शुरू में उसे कोई विद्यार्थी सिनेमा दिखाना प्रारंभ करता है, बाद में उसे सिनेमा देखने की आदत पड़ जाती है। यही हालत धूम्रपान करने वालों की होती है। जब उन्हें धूम्रपान की आदत पड़ जाती है, तब वह छूटने का नाम तक नहीं लेती। प्रारंभ में कुछ लोग शौकिया तौर पर बीड़ी – सिगरेट पीना प्रारंभ कर देते हैं। अंत में उसके आदी बन जाते हैं और लाख यत्न करने पर भी इससे पीछा नहीं छोड़ा पाते। इसीलिए तो पं. रामचंद्र शुक्ल ने कहा था कि कुसंग का ज्वर सबसे भयानक होता है। वह न केवल मान – मर्यादा का नाश करता है, बल्कि सात्विक चित्तवृत्ति को भी नष्ट कर देता है। जो भी कभी कुसंग के चक्कर में फँसा है, नष्ट हुए बिना नहीं रहा। कुमार्गगामी दूसरे को अपने जैसा बना लेता है।

SubQuestion No : 25

Q.25 इस अवतरण का उचित शीर्षक चुनिए।

- Ans A. जीवन में आधुनिकता का महत्व
 B. सुसंगति और कुसंगति
 C. विद्यार्थियों पर कुसंगति का प्रभाव
 D. सात्विक चित्तवृत्ति

Question ID : 630680179388

Status : Not Answered

Chosen Option : --

Section : English Language

Q.1 Select the most appropriate option that can substitute the underlined segment in the given sentence to make the sentence grammatically correct.

The first 30 months of India's tryst with the integration of the princely states within the new administrative and political architecture of the country are a marvel itself.

- Ans A. is a marvel in self
 B. is a marvel by itself
 C. are a marvel of itself
 D. are of marvel itself

Question ID : 630680179484

Status : Answered

Chosen Option : B

Q.2 Select the option that can be used as a one-word substitute for the underlined segment in the given sentence.

They have alleged that acts of killing of a whole race and torture were carried out.

- Ans A. regicide
 B. homicide
 C. parricide
 D. genocide

Question ID : 630680179480

Status : Answered

Chosen Option : A

Q.3 Select the most appropriate preposition to fill in the blank.
Many students suffer _____ examination fever.

- Ans
- A. in
 - B. by
 - C. from
 - D. of

Question ID : 630680179503
Status : Answered
Chosen Option : C

Q.4 Select the most appropriate article to fill in the blank. In case no article is needed, select 'No article needed'.
As the day of _____ attack approached, Collins assembled his men.

- Ans
- A. a
 - B. No article needed
 - C. the
 - D. an

Question ID : 630680177390
Status : Answered
Chosen Option : C

Q.5 Select the most appropriate ANTONYM of the given word.
Tenacious

- Ans
- A. Yielding
 - B. Encompassing
 - C. Invincible
 - D. Stout

INDIA

Question ID : 630680179446
Status : Answered
Chosen Option : A

Q.6 Parts of a sentence are given below in jumbled order. Arrange the parts in the correct order to form a meaningful sentence.

- A. someone who is grieving
- B. we can do for
- C. is to stay in touch
- D. one of the most helpful things

- Ans
- A. BACD
 - B. DCAB
 - C. BDCA
 - D. DBAC

Question ID : 630680179468
Status : Answered
Chosen Option : C

Q.7 Parts of the following sentence have been given as options. Select the option that contains a spelling error.

You must labour to keep alive in your breast that spark of exuberant celestial fire, called conscience.

- Ans
- A. celestial fire, called conscience
 - B. alive in your breast that
 - C. spark of exuberant
 - D. You must labour to keep

Question ID : 630680179464
Status : Answered
Chosen Option : A

Q.8 Select the most appropriate option that can substitute the underlined segment in the given sentence to make the sentence grammatically correct.

At the final eve, cricketer Ranatunga dismissed Warne as 'an average spinner' and had an uncanny ability to get under the Australians' skin.

- Ans
- A. At the eve of the final
 - B. On the eve of the final
 - C. On final eve
 - D. At the eve of final

Question ID : 630680179485
Status : Answered
Chosen Option : A

Q.9 Choose the most appropriate synonym of the word given below.
Vindictive

- Ans
- A. Malicious
 - B. Insulting
 - C. Embarrassing
 - D. Convincing

INDIA

Question ID : 630680179449
Status : Answered
Chosen Option : A

Q.10 Select the appropriate option to fill in the blanks.
According to a survey, 57% of employees 'feel less connected to their organisation's goals' since the coronavirus pandemic _____, while more than half feel their work achievements _____ less by higher-ups since moving to remote work.

- Ans
- A. has taken hold; notice
 - B. took hold; are noticed
 - C. was taken hold; were noticed
 - D. took held; had noticed

Question ID : 630680179520
Status : Answered
Chosen Option : D

Q.11 Select the most appropriate articles to fill in the blanks. In case no article is needed, select 'No article required'.

_____more you cry, _____more your enemies will rejoice.

- Ans A. No article required; no article required
 B. The; the
 C. No article required; the
 D. The; no article required

Question ID : 630680179508
Status : Answered
Chosen Option : B

Q.12 Select the correctly spelt word.

- Ans A. Advize
 B. Tution
 C. Greatful
 D. License

Question ID : 630680179461
Status : Answered
Chosen Option : D

Q.13 Select the most appropriate option that can substitute the underlined segment in the given sentence to make the sentence grammatically correct.

An agile leader believes that solutions evolve on a real-time basis and that the solutions of the past may not be the solutions of today as when they need to change along the times.

- Ans A. as they need for change along with
 B. as they along with need to change
 C. as they need to change along with
 D. when as they need to change along

Question ID : 630680179489
Status : Answered
Chosen Option : C

Q.14 Select the most appropriate option to fill in the blanks.

It was April 1988, and I had _____to India to study the potential and feasibility of buying and shipping prawns for the seafood plant in Scotland. It was meant to be a business trip like any other, 10 days there and back. I could never have imagined the impact it _____have on me, how it would be a springboard to a complete overhaul of everything I knew.

- Ans A. been; should
 B. transported; could
 C. traversed; must
 D. travelled; would

Question ID : 630680179491
Status : Answered
Chosen Option : D

Q.15 Choose the option that completes the proverb used in the following sentence.
You should not take undue stress; there is more than one way to _____

- Ans
- A. train a dog
 - B. tame a mouse
 - C. skin a cat
 - D. bell a cow

Question ID : 630680179456
Status : Answered
Chosen Option : D

Q.16 Select the appropriate option to fill in the blank.
_____into slavery in February 1818, Elizabeth Hobbs Keckley was the daughter of her owner,
Armistead Burwell, and his house slave, Agnes.

- Ans
- A. Born
 - B. Had born
 - C. Was born
 - D. Bored

Question ID : 630680179516
Status : Answered
Chosen Option : A

Q.17 Select the option that can be used as a one-word substitute for the given group of words.
A person who loathes women or is discriminatory against them

- Ans
- A. Misogynist
 - B. Misogamist
 - C. Misanthrope
 - D. Misandrist

INDIA

Question ID : 630680179476
Status : Answered
Chosen Option : A

Q.18 Select the most appropriate meaning of the underlined idiom.
Dhanishta had always worked very hard and hoped she would get a promotion but now felt
that she had hit a glass ceiling.

- Ans
- A. A place that was transparent and open for all participants
 - B. A point after which you cannot go any further, usually in improving your position at work
 - C. A point where one has always aspired to reach
 - D. A hard place to be where everything is brittle

Question ID : 630680179453
Status : Answered
Chosen Option : B

Q.19 Select the most appropriate adverb to fill in the blank.
My father drives the car _____ than my mother.

- Ans A. faster
 B. sooner
 C. speedier
 D. quicker

Question ID : 630680179500
Status : Answered
Chosen Option : A

Q.20 Choose the option that substitutes the text given in brackets in the sentence below.
I say these words in a rush, like they are being (to get rid of something unwanted, harmful, or evil) from the core of me.

- Ans A. indoctrinated
 B. Intoxicated
 C. Persecuted
 D. purged

Question ID : 630680177376
Status : Answered
Chosen Option : B

Comprehension:

Read the following passage and answer the given questions:

On 5 January, two days ahead of the Russian Orthodox Christmas, Patriarch Kirill of Moscow and All Russia called on 'all parties' involved in the 10-month-old Ukraine war to establish a Christmas truce. Within hours, the Kremlin declared a unilateral ceasefire from Friday noon through Saturday midnight along the entire frontline. Whether the Kremlin listened to the Patriarch or the Patriarch called for what the Kremlin wanted, the incident, once again, showed the close relationship between the church and the officially secular state in Russia. The day before Russian President Vladimir Putin announced his special military operation on 24 February 2022, Patriarch Kirill, 76, hailed Russian troops as 'defenders of the fatherland'. Weeks after the invasion began, he said the conflict had 'meta-physical significance' for both Russians and Ukrainians. 'We are talking about human salvation.' The Patriarch's comments were hardly surprising. Ever since his anointing as the Patriarch by the Holy Synod, a council of bishops, in 2009, he has largely taken positions that are aligned with the Kremlin's interests. He supported Russia's intervention in Syria in 2015. He also backed Russia's policies towards eastern Ukraine where the crisis broke out in 2014.

SubQuestion No : 21

Q.21 What is the central theme of the passage?

- Ans A. Putin's policies
 B. Russia's relations with Syria
 C. Alignment of the Church and Kremlin in Russia
 D. Russia-Ukraine War

Question ID : 630680177411
Status : Answered
Chosen Option : D

Comprehension:

Read the following passage and answer the given questions:

On 5 January, two days ahead of the Russian Orthodox Christmas, Patriarch Kirill of Moscow and All Russia called on 'all parties' involved in the 10-month-old Ukraine war to establish a Christmas truce. Within hours, the Kremlin declared a unilateral ceasefire from Friday noon through Saturday midnight along the entire frontline. Whether the Kremlin listened to the Patriarch or the Patriarch called for what the Kremlin wanted, the incident, once again, showed the close relationship between the church and the officially secular state in Russia. The day before Russian President Vladimir Putin announced his special military operation on 24 February 2022, Patriarch Kiril, 76, hailed Russian troops as 'defenders of the fatherland'. Weeks after the invasion began, he said the conflict had 'meta-physical significance' for both Russians and Ukrainians. 'We are talking about human salvation.'

The Patriarch's comments were hardly surprising. Ever since his anointing as the Patriarch by the Holy Synod, a council of bishops, in 2009, he has largely taken positions that are aligned with the Kremlin's interests. He supported Russia's intervention in Syria in 2015. He also backed Russia's policies towards eastern Ukraine where the crisis broke out in 2014.

SubQuestion No : 22

Q.22 Identify the synonym of the word 'salvation' used in the passage.

- Ans A. Friendship
 B. Suffering
 C. Rescue
 D. Balm

Question ID : 630680177415

Status : Answered

Chosen Option : C

Comprehension:

Read the following passage and answer the given questions:

On 5 January, two days ahead of the Russian Orthodox Christmas, Patriarch Kirill of Moscow and All Russia called on 'all parties' involved in the 10-month-old Ukraine war to establish a Christmas truce. Within hours, the Kremlin declared a unilateral ceasefire from Friday noon through Saturday midnight along the entire frontline. Whether the Kremlin listened to the Patriarch or the Patriarch called for what the Kremlin wanted, the incident, once again, showed the close relationship between the church and the officially secular state in Russia. The day before Russian President Vladimir Putin announced his special military operation on 24 February 2022, Patriarch Kiril, 76, hailed Russian troops as 'defenders of the fatherland'. Weeks after the invasion began, he said the conflict had 'meta-physical significance' for both Russians and Ukrainians. 'We are talking about human salvation.'

The Patriarch's comments were hardly surprising. Ever since his anointing as the Patriarch by the Holy Synod, a council of bishops, in 2009, he has largely taken positions that are aligned with the Kremlin's interests. He supported Russia's intervention in Syria in 2015. He also backed Russia's policies towards eastern Ukraine where the crisis broke out in 2014.

SubQuestion No : 23

Q.23 Which of the following is not a fact cited in the passage?

- Ans A. Vladimir Putin and Patriarch Kirill are friends.
 B. Patriarch Kirill is part of the Russian Orthodox Church.
 C. Vladimir Putin is the President of Russia.
 D. The council of bishops is called 'Holy Synod'.

Question ID : 630680177412

Status : Answered

Chosen Option : A

Comprehension:

Read the following passage and answer the given questions:

On 5 January, two days ahead of the Russian Orthodox Christmas, Patriarch Kirill of Moscow and All Russia called on 'all parties' involved in the 10-month-old Ukraine war to establish a Christmas truce. Within hours, the Kremlin declared a unilateral ceasefire from Friday noon through Saturday midnight along the entire frontline. Whether the Kremlin listened to the Patriarch or the Patriarch called for what the Kremlin wanted, the incident, once again, showed the close relationship between the church and the officially secular state in Russia. The day before Russian President Vladimir Putin announced his special military operation on 24 February 2022, Patriarch Kiril, 76, hailed Russian troops as 'defenders of the fatherland'. Weeks after the invasion began, he said the conflict had 'meta-physical significance' for both Russians and Ukrainians. 'We are talking about human salvation.'

The Patriarch's comments were hardly surprising. Ever since his anointing as the Patriarch by the Holy Synod, a council of bishops, in 2009, he has largely taken positions that are aligned with the Kremlin's interests. He supported Russia's intervention in Syria in 2015. He also backed Russia's policies towards eastern Ukraine where the crisis broke out in 2014.

SubQuestion No : 24

Q.24 Identify the tone of the passage.

- Ans A. Bitter
- B. Critical
- C. Analytical
- D. Humorous

Question ID : 630680177413

Status : Answered

Chosen Option : C

Comprehension:

Read the following passage and answer the given questions:

On 5 January, two days ahead of the Russian Orthodox Christmas, Patriarch Kirill of Moscow and All Russia called on 'all parties' involved in the 10-month-old Ukraine war to establish a Christmas truce. Within hours, the Kremlin declared a unilateral ceasefire from Friday noon through Saturday midnight along the entire frontline. Whether the Kremlin listened to the Patriarch or the Patriarch called for what the Kremlin wanted, the incident, once again, showed the close relationship between the church and the officially secular state in Russia. The day before Russian President Vladimir Putin announced his special military operation on 24 February 2022, Patriarch Kiril, 76, hailed Russian troops as 'defenders of the fatherland'. Weeks after the invasion began, he said the conflict had 'meta-physical significance' for both Russians and Ukrainians. 'We are talking about human salvation.'

The Patriarch's comments were hardly surprising. Ever since his anointing as the Patriarch by the Holy Synod, a council of bishops, in 2009, he has largely taken positions that are aligned with the Kremlin's interests. He supported Russia's intervention in Syria in 2015. He also backed Russia's policies towards eastern Ukraine where the crisis broke out in 2014.

SubQuestion No : 25

Q.25 What is the meaning of the word 'unilateral' used in the passage?

- Ans A. Involving only one group or country
- B. Treaty
- C. Negotiable
- D. Straight down

Question ID : 630680177414

Status : Answered

Chosen Option : A

Q.1 निम्नलिखित में से कौन सा भूरा शैवाल है?

- Ans A. वॉलवॉक्स (Volvox)
 B. सरगसुम (Sargassum)
 C. यूलोथ्रिक्स (Ulothrix)
 D. क्लैमाइडोमोनस (Chlamydomonas)

Question ID : 630680177505
Status : Answered
Chosen Option : D

Q.2 लड़कियों के किस आयु वर्ग में, भारत की अनाहत सिंह ने ब्रिटिश जूनियर ओपन टूर्नामेंट 2023 में स्ववैश खिताब जीता है?

- Ans A. अंडर-11
 B. अंडर-15
 C. अंडर-13
 D. अंडर-17

Question ID : 630680179658
Status : Answered
Chosen Option : C

Q.3 दिसंबर 2022 में, भारतीय जीवन बीमा निगम (LIC) ने अपने डिजिटल फुटप्रिंट को बढ़ाने के प्रयास के अंतर्गत, _____ में "डिजि ज़ोन" का उद्घाटन किया था।

- Ans A. दिल्ली
 B. मुंबई
 C. हैदराबाद
 D. चंडीगढ़

INDIA

Question ID : 630680179697
Status : Answered
Chosen Option : B

Q.4 राज्य पुनर्गठन अधिनियम किस वर्ष पारित हुआ था, जिसके कारण 14 राज्यों और छह केंद्र शासित प्रदेशों का निर्माण हुआ?

- Ans A. 1957
 B. 1955
 C. 1956
 D. 1958

Question ID : 630680179665
Status : Answered
Chosen Option : C

Q.5 जिस स्वर का अपने स्थान पर लगातार या बार-बार उच्चारण किया जाता है, उससे किस वर्ण की उत्पत्ति होती है?

- Ans
- A. संचारी वर्ण
 - B. स्थायी वर्ण
 - C. अवरोही वर्ण
 - D. आरोही वर्ण

Question ID : 630680179683

Status : Answered

Chosen Option : A

Q.6 2022 के अंत तक विज्ञान एवं प्रौद्योगिकी विभाग की समीक्षा रिपोर्ट के अनुसार भारत की प्रमुख उपलब्धियों के संबंध में निम्नलिखित में से कौन-सा सही है?

- I. दुनिया में स्टार्टअप की संख्या (77,000) और यूनिคอร์न (UNICORNS) की संख्या (107) के मामले में भारत विश्व स्तर पर पहले स्थान पर है।
- II. भारत, दुनिया में प्रौद्योगिकी संव्यवहारों के लिए सबसे आकर्षक निवेश स्थलों में तीसरे स्थान पर है।
- III. भारत ने वैश्विक नवाचार सूचकांक {Global Innovation Index (GII)} की अपनी वैश्विक रैंकिंग में वर्ष 2015 में दुनिया की 130 अर्थव्यवस्थाओं में 81वें से 2022 में उल्लेखनीय रूप से 40वें स्थान पर पहुंच गया।

- Ans
- A. II और III
 - B. I और II
 - C. I और III
 - D. I, II और III

Question ID : 630680177429

Status : Answered

Chosen Option : D

Q.7 भाभा परमाणु अनुसंधान केंद्र के अनुसार, केरल और उड़ीसा के समुद्र तटों की रेत में मोनाज़ाइट का समृद्ध भंडार है, जिसमें थोरियम का लगभग कितना भाग है?

- Ans
- A. 18-20%
 - B. 38-40%
 - C. 28-30%
 - D. 8-10%

Question ID : 630680179701

Status : Not Answered

Chosen Option : --

Q.8 भारत में अवसंरचना परियोजनाओं के लिए पहली बार 'ज़मानत बांड बीमा (Surety Bond Insurance)' का शुभारंभ किसने किया था?

- Ans
- A. पीयूष गोयल
 - B. गिरिराज सिंह
 - C. राजनाथ सिंह
 - D. नितिन गडकरी

Question ID : 630680179695

Status : Not Answered

Chosen Option : --

Q.9 जगोई (Jagoi) और चोलोम (Cholom), _____ नृत्य के दो मुख्य भाग हैं।

- Ans A. सत्रीया
 B. मणिपुरी
 C. कुचिपुड़ी
 D. ओडिसी

Question ID : 630680177465
Status : Answered
Chosen Option : D

Q.10 भारत के चुनाव आयोग द्वारा निम्नलिखित में से किस राज्य में "मिशन -929" आरंभ किया गया था?

- Ans A. त्रिपुरा
 B. पंजाब
 C. केरल
 D. असम

Question ID : 630680179731
Status : Not Answered
Chosen Option : --

Q.11 क्रिप्स मिशन (Cripps Mission) की असफलता के बाद ब्रिटिश शासन के खिलाफ महात्मा गांधी का प्रमुख आंदोलन कौन-सा था?

- Ans A. सविनय अवज्ञा आंदोलन
 B. खिलाफत आंदोलन
 C. असहयोग आंदोलन
 D. भारत छोड़ो आंदोलन

INDIA

Question ID : 630680179672
Status : Answered
Chosen Option : D

Q.12 सर्वोच्च न्यायालय के न्यायाधीश को हटाने के लिए पहली बार प्रस्ताव पर संसद के 108 सदस्यों द्वारा किस वर्ष में हस्ताक्षर किए गए थे?

- Ans A. 1993
 B. 1991
 C. 1990
 D. 1992

Question ID : 630680179735
Status : Not Answered
Chosen Option : --

Q.13 जनवरी 2023 में लॉन्च किया गया, निम्नलिखित में से कौन-सा ऐप भारत का सबसे तेज़ भुगतान ऐप है?

- Ans
- A. पेज़ैप (PayZapp)
 - B. फ़ोनपे (PhonePe)
 - C. पेरुप (PayRup)
 - D. गूगल पे (Google Pay)

Question ID : 630680179692
Status : Answered
Chosen Option : A

Q.14 चंदेरी में राजपूतों को हराकर बाबर ने किस वर्ष आगरा और दिल्ली पर अधिकार स्थापित किया था?

- Ans
- A. 1527
 - B. 1529
 - C. 1528
 - D. 1526

Question ID : 630680179661
Status : Answered
Chosen Option : C

Q.15 भारत सरकार द्वारा 2022 तक कितनी श्रम संहिताओं का प्रतिपादन किया गया है?

- Ans
- A. 10
 - B. 6
 - C. 8
 - D. 4



Question ID : 630680179706
Status : Not Answered
Chosen Option : --

Q.16 निम्नलिखित में से कौन-सा बल, ब्रह्मांड की विशाल पैमाने की परिघटनाओं- जैसे तारों, आकाशगंगाओं और आकाशगंगा समूहों के गठन और विकास में महत्वपूर्ण भूमिका निभाता है?

- Ans
- A. वांडर वाल्स बल
 - B. विद्युत चुम्बकीय बल
 - C. नाभिकीय बल
 - D. गुरुत्वाकर्षण बल

Question ID : 630680179719
Status : Answered
Chosen Option : A

Q.17 निम्नलिखित में से कौन-सा नियम कहता है कि "स्थिर तापमान पर, गैस की एक निश्चित मात्रा (अर्थात मोल n की संख्या) का दाब इसके आयतन के व्युत्क्रमानुपाती होता है"?

- Ans
- A. डाल्टन का नियम (Dalton's Law)
 - B. चार्ल्स का नियम (Charles Law)
 - C. बॉयल का नियम (Boyle's law)
 - D. आवोगाद्रो का नियम (Avogadro's Law)

Question ID : 630680179723
Status : Answered
Chosen Option : C

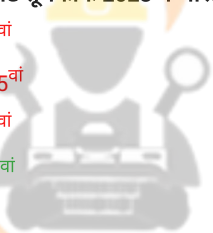
Q.18 निम्नलिखित में से किस राज्य ने 8 मार्च 2023 को अंतर्राष्ट्रीय महिला दिवस से महिलाओं को ₹1000 प्रति माह प्रदान करने के लिए 'लाडली बहना' योजना को शुरू करने की घोषणा की है?

- Ans
- A. हिमाचल प्रदेश
 - B. मध्य प्रदेश
 - C. उत्तर प्रदेश
 - D. आंध्र प्रदेश

Question ID : 630680179653
Status : Answered
Chosen Option : B

Q.19 हेनली पासपोर्ट सूचकांक 2023 में भारत का कौन-सा स्थान है?

- Ans
- A. 75वां
 - B. 105वां
 - C. 95वां
 - D. 85वां



INDIA

Question ID : 630680179651
Status : Answered
Chosen Option : D

Q.20 सप्तक में प्रयुक्त होने वाली ध्वनि सामान्य ध्वनि से दुगुनी धीमी होती है तो उसे क्या कहा जाता है?

- Ans
- A. मध्य सप्तक
 - B. सामान्य सप्तक
 - C. तार सप्तक
 - D. मंद्र सप्तक

Question ID : 630680179688
Status : Not Answered
Chosen Option : --

Q.21 राष्ट्रीय पवन ऊर्जा संस्थान, नवीन और नवीकरणीय ऊर्जा मंत्रालय, भारत सरकार द्वारा दी गई वार्षिक रिपोर्ट 2021-22 के अनुसार एकीकृत पवन - सौर संसाधन आकलन स्टेशनों की संख्या निम्नलिखित में से किस राज्य में सबसे अधिक है।

- Ans
- A. आंध्र प्रदेश
 - B. कर्नाटक
 - C. महाराष्ट्र
 - D. गुजरात

Question ID : 630680179711
Status : Not Answered
Chosen Option : --

Q.22 जुलाई के मध्य तक, सतह के निकट निम्न दाब क्षेत्र (जिसे ITCZ कहा जाता है) जो लगभग हिमालय के समानांतर 20° N और 25° N के बीच उत्तर की ओर खिसक जाता है। ITCZ का पूर्ण रूप क्या है?

- Ans
- A. Indian Tropical Convergence Zone (इंडियन ट्रोपिकल कन्वर्जेंस जोन)
 - B. Indian Trans Convergence Zone (इंडियन ट्रांस कन्वर्जेंस जोन)
 - C. Inter Tropical Convergence Zone (इंटर ट्रोपिकल कन्वर्जेंस जोन)
 - D. Inter Trans Convergence Zone (इंटर ट्रांस कन्वर्जेंस जोन)

Question ID : 630680179705
Status : Not Answered
Chosen Option : --

Q.23 राष्ट्रीय आपदा प्रबंधन प्राधिकरण (NDMA) ने राहत कार्यों में शामिल या तैयारियों की गतिविधियों में शामिल व्यक्तियों सहित मृत्यु के कारण को कोविड-19 के रूप में प्रमाणित होने पर, प्रति मृत व्यक्ति के लिए कितनी राशि की सिफारिश की थी?

- Ans
- A. ₹50,000/-
 - B. ₹75,000/-
 - C. ₹1,00,000/-
 - D. ₹65,000/-

Question ID : 630680177435
Status : Not Answered
Chosen Option : --

Q.24 भारत के संविधान के किस अनुच्छेद में निम्नलिखित कथन का उल्लेख किया गया है?

"गिरफ्तार किए गए किसी भी व्यक्ति को इस तरह की गिरफ्तारी के आधार के बारे में सूचित किए बिना, जितनी जल्दी हो सके, हिरासत में नहीं रखा जाएगा और न ही उसे अपनी पसंद के वकील से परामर्श करने और बचाव करने के अधिकार से वंचित किया जाएगा।"

- Ans
- A. अनुच्छेद 20
 - B. अनुच्छेद 21
 - C. अनुच्छेद 22
 - D. अनुच्छेद 19

Question ID : 630680177518
Status : Answered
Chosen Option : A

Q.25 1944 में ASI के महानिदेशक के रूप में पदभार ग्रहण करने के बाद, इस समस्या को किसने परिशोधित किया था कि हड़प्पा सभ्यता में यांत्रिक रूप से एकसमान क्षैतिज रेखाओं के अनुदिश खुदाई करने के बजाय टीले के स्तर विन्यास का अनुसरण करना आवश्यक है?

- Ans A. आर. डी. बनर्जी
 B. आर. ई. एम. व्हीलर
 C. दयाराम साहनी
 D. अलेक्जेंडर कनिंघम

Question ID : 630680179675
Status : Answered
Chosen Option : D

Section : General Intelligence

Q.1 उस विकल्प का चयन करें, जो निम्नलिखित श्रृंखला में प्रश्नवाचक चिन्ह (?) को प्रतिस्थापित करेगा।

6, 18, 36, 108, 216, ?

- Ans A. 532
 B. 648
 C. 432
 D. 348

Question ID : 630680177649
Status : Answered
Chosen Option : B


Q.2 A, B, C, D, E, F और G इन सात बच्चों की परीक्षा, सप्ताह के अलग-अलग दिनों में सोमवार से रविवार तक है। C की परीक्षा बुधवार को है। F और C के बीच केवल 1 व्यक्ति की परीक्षा है। F के ठीक बाद B की परीक्षा है। C और G के बीच में A की परीक्षा है। A और D के बीच केवल 2 बच्चों की परीक्षा है। F और G के बीच 3 बच्चों की परीक्षा है। D की परीक्षा रविवार को है। शुक्रवार को किसकी परीक्षा है?

- Ans A. E
 B. D
 C. G
 D. A

Question ID : 630680176403
Status : Answered
Chosen Option : C

Q.3 जब दर्पण को MN पर रखा जाता है, तो दी गई आकृति का दर्पण में निर्मित सही प्रतिबिंब चयनित करें।

A78mb



Ans

✓ A. d m 8 7 A

✗ B. d m 8 7 A

✗ C. d m 8 7 A

✗ D. d m 8 7 A

Question ID : 630680176462

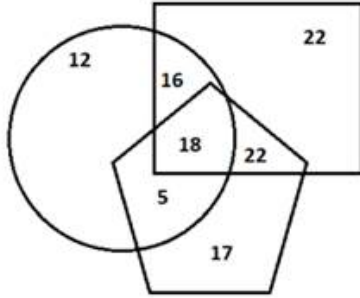
Status : Answered

Chosen Option : A



INDIA

Q.5 केवल दो आकृतियों से संबंधित संख्याओं का गुणनफल क्या होगा ?



- Ans A. 1706
 B. 1760
 C. 1670
 D. 1690

Question ID : 630680177581
Status : Answered
Chosen Option : B

Q.6 दिए गए विकल्पों में से उस संख्या का चयन करें, जो निम्नलिखित समीकरण में प्रश्नवाचक चिन्ह (?) को प्रतिस्थापित कर सकती है।

$$327.17 - 223.69 + 247.89 \div 30.69 \times 17.37 = ?$$

- Ans A. 923
 B. 392
 C. 239
 D. 329

INDIA

Question ID : 630680177655
Status : Answered
Chosen Option : C

Q.7 दिए गए विकल्पों में से उस संख्या का चयन करें जो निम्नलिखित श्रृंखला में प्रश्नवाचक चिह्न (?) को प्रतिस्थापित कर सकती है।

$$150, 140, 120, 90, 50, ?$$

- Ans A. 20
 B. 0
 C. -10
 D. 10

Question ID : 630680173450
Status : Answered
Chosen Option : B

Q.8 दिए गए डेटा को पढ़िए और नीचे दिए गए प्रश्न का उत्तर दीजिए।

एक व्यक्ति के पास पांच सिक्के C1, C2, C3, C4 और C5 हैं, जिनमें से प्रत्येक का वजन अलग-अलग है।

- C1 का वजन C2 से दोगुना है।
- C2 का वजन C3 से साढ़े चार गुना अधिक है।
- C3 का वजन C4 के वजन का आधा है।
- C4 का वजन C5 के वजन का आधा है।

निम्नलिखित में से कौन सा वजन में सबसे हल्का है?

- Ans
- A. C2
 - B. C1
 - C. C4
 - D. C3

Question ID : 630680177586

Status : Answered

Chosen Option : D

Q.9 निम्नलिखित में से कौन सी संख्या, दी गई श्रृंखला में बाएं छोर से 7वीं संख्या और दाएं छोर से 13वीं संख्या के ठीक बीच में है?

(बाएं) 2 4 5 2 1 6 7 8 6 5 4 3 8 9 7 6 5 7 9 7 6 0 7 8 9 3 4 5 9 3 6 7 3 8 4 2 1 (दाएं)

- Ans
- A. 9
 - B. 5
 - C. 7
 - D. 6



Question ID : 630680177595

Status : Answered

Chosen Option : D

Q.10 जब दर्पण को MN पर रखा जाता है, तो दी गई आकृति का दर्पण में निर्मित सही प्रतिबिंब चयनित करें।

WGQ54R

- Ans
- A. R 4 2 Q Ɔ W
 - B. R 4 2 Q Ɔ W
 - C. R 4 5 Q Ɔ W
 - D. R 4 2 Q Ɔ W

Question ID : 630680176461

Status : Answered

Chosen Option : D

Q.11 50 विद्यार्थियों की एक कक्षा में, खुशबू, खुशी से 10 स्थान आगे है। यदि खुशी का स्थान अंत से 18वां है, तो शुरुआत से खुशबू का स्थान कौन-सा है?

- Ans
- A. 22
 - B. 23
 - C. 24
 - D. 21

Question ID : 630680176398
Status : Answered
Chosen Option : B

Q.12 चार शब्द दिए गए हैं, जिनमें से तीन किसी प्रकार से एकसमान हैं और एक असंगत है। उस असंगत शब्द का चयन करें।

- Ans
- A. समालोचक
 - B. संवाददाता
 - C. समीक्षक
 - D. सामान्यज्ञ

Question ID : 630680176452
Status : Answered
Chosen Option : A

Q.13 निम्नलिखित शब्द के जल निर्मित प्रतिबिंब का चयन करें।

COUNTY

INDIA

Ans

- A. COUNTY
- B. COUITY
- C. COPIITY
- D. COUNTY

Question ID : 630680177639
Status : Answered
Chosen Option : B

Q.14 सात लड़कियां A, L, K, S, F, D और M एक सीधी पंक्ति में उत्तर की ओर अभिमुख होकर बैठी हैं। A बाएँ छोर पर बैठी है। M ठीक K और S के बीच में बैठा है। L, S के दाएँ से दूसरे स्थान पर बैठा है। M, F के बाएँ से दूसरे स्थान पर बैठा है। A के ठीक दाएँ पड़ोस में कौन बैठा है?

- Ans
- A. F
 - B. K
 - C. S
 - D. M

Question ID : 630680176396

Status : Answered

Chosen Option : B

Q.15 किसी निश्चित कूट भाषा में, WORLDCUP को MPXQDVE के रूप में कूटबद्ध किया गया है। उसी भाषा में MOTOCORP को कैसे कूटबद्ध किया जाएगा?

- Ans
- A. PPUNPQDS
 - B. PPUNQPSD
 - C. PPUNQPDS
 - D. PPUNPQSD

Question ID : 630680177602

Status : Answered

Chosen Option : B

Q.16 चार अक्षर-समूह युग्म दिए गए हैं, जिनमें से तीन किसी न किसी तरीके से एक समान हैं, और एक असंगत है। उस असंगत अक्षर-समूह युग्म का चयन करें।

- Ans
- A. BASIS : UKUCD
 - B. ANGER : TGIPC
 - C. BEACH : JECGC
 - D. ABUSE : GUWDC

Question ID : 630680177623

Status : Answered

Chosen Option : C

Q.17 पांच मित्र एक बेंच पर उत्तर की ओर अभिमुख होकर बैठे हैं। गुरमीत, सोहन के ठीक दाएँ पड़ोस में बैठा है। सोहन, बलविंदर के ठीक दाएँ बैठा है। इमरान, नितेश के ठीक बाएँ पड़ोस में और गुरमीत के ठीक दाएँ पड़ोस में बैठा है। तो बाएँ छोर पर कौन बैठा है?

- Ans
- A. सोहन
 - B. इमरान
 - C. बलविंदर
 - D. नितेश

Question ID : 630680173369

Status : Answered

Chosen Option : D

Q.18 एनी पश्चिम दिशा की ओर चलना शुरू करती है। 2 km चलने के बाद वह दाएँ मुड़ती है और 3 km चलती है। फिर वह अपने बाएँ मुड़ती है और 4 km चलती है। वह किस दिशा में जा रही है?

- Ans
- A. पश्चिम
 - B. पूर्व
 - C. दक्षिण
 - D. उत्तर

Question ID : 630680176435

Status : Answered

Chosen Option : A

Q.19 उस विकल्प का चयन करें, जिसमें अक्षर-समूह के मध्य वही संबंध है, जो नीचे दिए गए अक्षर-समूहों के युग्म के मध्य है।

VACANCIES : DJFTOWBDB

- Ans
- A. VACATABLE : FMCBUBDBW
 - B. VACATIONS : WBDBUJPOT
 - C. VACCINIAL : DDBWJMBJO
 - D. VACCINATE : OBUFJWBDD

Question ID : 630680177616

Status : Answered

Chosen Option : D

Q.20 दिए गए डेटा को पढ़िए और नीचे दिए गए प्रश्न का उत्तर दीजिए।

यदि

X \$ Y का अर्थ है X, Y की माता है;

X & Y का अर्थ है X, Y का भाई है;

X # Y का अर्थ है X, Y का पिता है;

X @ Y का अर्थ है X, Y की बहन है, तो 'M \$ L # K @ N & P' के संबंध में M, N से किस प्रकार संबंधित है?

- Ans
- A. नानी
 - B. दादी
 - C. चाची
 - D. मामी

Question ID : 630680177610

Status : Answered

Chosen Option : B

Q.21 निम्नलिखित व्यंजक का लगभग मान ज्ञात कीजिए।

$$93 \div 30 \times 27 - 35 + 17 = ?$$

- Ans
- A. 62.4
 - B. 65
 - C. 67.5
 - D. 65.7

Question ID : 630680176477
Status : Answered
Chosen Option : D

Q.22 एक लिखित कूट भाषा में, RESOLVE को NUGNTDU के रूप में कूटबद्ध किया जाता है। PROBLEM को उसी भाषा में कैसे कूटबद्ध किया जाएगा?

- Ans
- A. NDOARPQ
 - B. NDOARQP
 - C. NDOARQQ
 - D. NDOAQQQ

Question ID : 630680177599
Status : Answered
Chosen Option : C

Q.23 बगल में बैठी एक महिला को देखकर अमित ने कहा, "मेरी दादी के इकलौते पुत्र की पुत्री उनके पुत्र की माँ है"। महिला, अमित से किस प्रकार संबंधित है?

- Ans
- A. बहन
 - B. पुत्री
 - C. माँ
 - D. पत्नी

Question ID : 630680173419
Status : Answered
Chosen Option : A

Q.24 निम्नलिखित श्रृंखला में प्रश्नवाचक चिह्न (?) को प्रतिस्थापित करने वाले विकल्प का चयन करें।

PASS, TDUT, XGWU, ?, FMAW

- Ans
- A. BJYV
 - B. BKYV
 - C. AKYV
 - D. AJZV

Question ID : 630680177589
Status : Answered
Chosen Option : A

Q.25 अंग्रेजी वर्णमाला के दूसरे भाग को उल्टे क्रम में लिखा गया है और पहले भाग में कोई परिवर्तन नहीं दिया गया है।

कौन सा अक्षर बाएं छोर से 7वें अक्षर के दाएं से 11वां होगा?

- Ans
- A. T
 - B. V
 - C. W
 - D. U

Question ID : 630680177592

Status : Answered

Chosen Option : B

Section : Quantitative Aptitude

Q.1 किसी वृत्त से 60° का एक त्रिज्यखंड (sector) काटा जाता है और उसका क्षेत्रफल $18\frac{6}{7}$ cm^2 है। वृत्त की त्रिज्या cm में ज्ञात कीजिए।

- Ans
- A. 5
 - B. 3
 - C. 4
 - D. 6

Question ID : 630680179633

Status : Answered

Chosen Option : D

Q.2 निम्नलिखित तालिका, किसी शहर की वर्ष 2000-2020 की जनसंख्या दर्शाती है। वर्ष 2000 की तुलना में, वर्ष 2015 में जनसंख्या में प्रतिशत वृद्धि ज्ञात कीजिए।

वर्ष	जनसंख्या
2000	1,61,29,340
2005	1,73,40,962
2010	1,82,67,900
2015	1,97,03,486
2020	2,03,85,413

- Ans
- A. 20% से 23% के बीच
 - B. 14% और 16% के बीच
 - C. 24% और 26% के बीच
 - D. 17% और 19% के बीच

Question ID : 630680179610

Status : Answered

Chosen Option : A

Q.3 किसी निश्चित धनराशि x पर, निश्चित दर से गणना किया गया ब्याज, दूसरे वर्ष और तीसरे वर्ष के लिए क्रमशः ₹770 और ₹847 है। धनराशि x (₹ में) ज्ञात कीजिए।

- Ans
- A. 6,000
 - B. 6,300
 - C. 6,700
 - D. 7,000

Question ID : 630680179593

Status : Answered

Chosen Option : D

Q.4 $4\frac{1}{2} : 2\frac{1}{4}$ को सरलतम अनुपात रूप (simplest ratio form) में व्यक्त कीजिए।

- Ans
- A. 3 : 2
 - B. 2 : 1
 - C. 2 : 3
 - D. 1 : 2

Question ID : 630680179583

Status : Answered

Chosen Option : B

Q.5 दो स्टेशनों, P और Q के बीच की दूरी 400 km है। A और B एक साथ क्रमशः स्टेशन P और Q से एक दूसरे की ओर चलना शुरू करते हैं, तथा B की चाल, A की चाल से 10 km/h अधिक है। यदि प्रारंभ से 3 घंटे बाद A और B की दूरी के बीच का अंतर है 70 km है, तो B की चाल km/h में ज्ञात कीजिए।

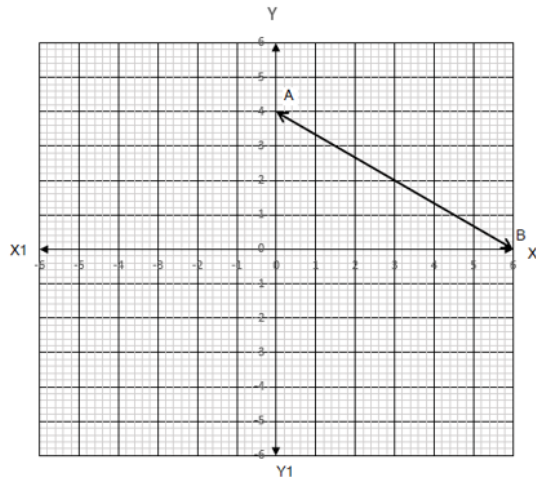
- Ans
- A. 60
 - B. 55
 - C. 50
 - D. 45

Question ID : 630680179597

Status : Answered

Chosen Option : A

Q.6 निम्नलिखित लेखाचित्र में, रेखा AB निम्नलिखित में से किस समीकरण को पूर्ण करती है?



- Ans
- A. $3x - 2y = 6$
 - B. $4y - x = 8$
 - C. $x + 4y = 2$
 - D. $2x + 3y = 12$

Question ID : 630680179624

Status : Answered

Chosen Option : A

Q.7 $(985 + 897)^2 - 4 \times 985 \times 897$ का मान ज्ञात कीजिए।

- Ans
- A. 7892
 - B. 7744
 - C. 7474
 - D. 7928

Question ID : 630680179547

Status : Answered

Chosen Option : B

Q.8 किसी दीवार पर एक त्रिभुज चित्रित किया गया है, जिसका आधार दीवार की 12 ft वाली निचली भुजा के समांतर और बराबर है। त्रिभुज दीवार के 72 ft^2 क्षेत्रफल को घेरता है, त्रिभुज की ऊंचाई ज्ञात कीजिए।

- Ans
- A. 15
 - B. 6
 - C. 9
 - D. 12

Question ID : 630680179626

Status : Answered

Chosen Option : D

Q.9 1 जनवरी, 22 को पेट्रोल की कीमत की तुलना में, 1 अप्रैल, 22 को पेट्रोल की कीमत में 8% की वृद्धि हुई। यदि 31 सितंबर, 22 को फिर से 5% की वृद्धि हुई, और यदि 31 सितंबर, 22 को कीमत ₹96.39/ltr. थी, तो 1 जनवरी, 22 को पेट्रोल की कीमत (₹/ltr.में) कितनी थी?

- Ans
- A. 80
 - B. 82
 - C. 86
 - D. 85

Question ID : 630680179566
Status : Answered
Chosen Option : D

Q.10 एक व्यक्ति 12 km की दूरी को साइकिल द्वारा 15 km/h की चाल से तय करता है और फिर 156 km की दूरी को ट्रेन द्वारा 75 km/h की चाल से तय करता है और फिर 32 km की दूरी को बस द्वारा 28 km/h की चाल से तय करता है। पूरी यात्रा के लिए उसकी लगभग औसत चाल (km/h में) ज्ञात कीजिए।

- Ans
- A. 50
 - B. 52
 - C. 55
 - D. 58

Question ID : 630680177964
Status : Answered
Chosen Option : A

Q.11 कोई ड्रेस ₹432 में बेचने पर, एक विक्रेता को 20% का लाभ होता है। उसे ड्रेस पर कितना मूल्य (₹ में) अंकित करना चाहिए, ताकि 10% की छूट देने के बाद भी, उसे 30% का लाभ हो?

- Ans
- A. 486
 - B. 502
 - C. 468
 - D. 520

Question ID : 630680179578
Status : Answered
Chosen Option : D

Q.12 जब 1542, 1754 और 2125 को बड़ी से बड़ी संख्या x से विभाजित किया जाता है, तो प्रत्येक स्थिति में शेषफल y प्राप्त होता है। $(x - 5y)$ का मान ज्ञात कीजिए?

- Ans
- A. 15
 - B. 28
 - C. 23
 - D. 19

Question ID : 630680179557
Status : Not Answered
Chosen Option : --

Q.13 शिवा ने सुपरमार्केट से कुल ₹245 में, 5 kg दही, एक शीतल पेय की बोतल और अंडों की एक ट्रे खरीदी। यदि अंडों की ट्रे और शीतल पेय की बोतल का मूल्य ₹165 है, तो एक kg दही का मूल्य क्या है?

- Ans
- A. 16
 - B. 20
 - C. 24
 - D. 12

Question ID : 630680178021
Status : Answered
Chosen Option : A

Q.14 एक अंडा विक्रेता, ₹20 में 9 अंडे खरीदता है और उन्हें ₹28 में 11 की दर से बेचता है। उसका लाभ या हानि प्रतिशत ज्ञात कीजिए (दो दशमलव स्थानों तक पूर्णांकित)।

- Ans
- A. 12.24%
 - B. 13.15%
 - C. 14.55%
 - D. 15.08%

Question ID : 630680179577
Status : Answered
Chosen Option : C

Q.15 यदि P, त्रिभुज ABC का परिकेन्द्र है, जिसकी परिविज्या 13 cm है। मान लीजिये कि BC = 24 cm और PQ, BC के लंबवत है। तो PQ की लंबाई (cm में) क्या है?

- Ans
- A. 6
 - B. 8
 - C. 9
 - D. 5

Question ID : 630680178043
Status : Answered
Chosen Option : D

Q.16 ₹9,600 की राशि पर, 8% वार्षिक दर से 18 अक्टूबर, 2021 से 13 मार्च, 2022 तक का साधारण ब्याज (₹में) ज्ञात कीजिए।

- Ans
- A. 307.2
 - B. 358.5
 - C. 321.8
 - D. 334.4

Question ID : 630680179589
Status : Answered
Chosen Option : A

Q.17 यदि 7 लड़कियां या 5 महिलाएं, प्रति दिन ₹1,400 कमा सकती हैं, तो 7 महिलाएं और 11 लड़कियां, प्रतिदिन (₹ में) कितनी कमाई करेंगी?

- Ans
- ✓ A. 4,160
 - ✗ B. 3,780
 - ✗ C. 3,450
 - ✗ D. 4,000

Question ID : 630680179585

Status : Answered

Chosen Option : A

Q.18 किसी आयताकार कोठरी के फर्श का विकर्ण $10\frac{1}{2}$ ft है और छोटी भुजा की लंबाई $4\frac{1}{2}$ ft है। आधी कोठरी का क्षेत्रफल (ft^2) में ज्ञात कीजिए।

- Ans
- ✗ A. $\frac{13\sqrt{3}}{2}$
 - ✓ B. $\frac{27\sqrt{10}}{4}$
 - ✗ C. $\frac{22\sqrt{7}}{3}$
 - ✗ D. $\frac{2\sqrt{3}}{5}$

Question ID : 630680179632

Status : Answered

Chosen Option : B

Q.19 एक ट्रेन अपने विपरीत दिशा से चल रहे एक ट्रक को 33 सेकंड में पार करती है। यदि ट्रक की चाल 36 km/h है और उसकी लंबाई, ट्रेन की लंबाई का 10% है। यदि रेलगाड़ी 15 m/s की चाल से चल रही थी, तो ट्रेन की लंबाई (m में) कितनी है?

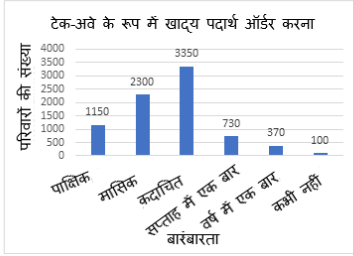
- Ans
- ✗ A. 800
 - ✗ B. 700
 - ✗ C. 850
 - ✓ D. 750

Question ID : 630680178004

Status : Answered

Chosen Option : D

Q.20 निम्नलिखित लेखाचित्र, टेक-अवे के रूप में खाद्य पदार्थ का ऑर्डर देने वाले लोगों की बारंबारता से संबंधित, किसी विद्यार्थी द्वारा उसके मोहल्ले से एकत्र किए गए आंकड़ों को दर्शाता है।



सप्ताह में एक बार और मासिक रूप से टेक-अवे का ऑर्डर देने वाले परिवारों तथा कदाचित ऑर्डर देने वाले परिवारों के प्रतिशत का अनुपात ज्ञात कीजिए। परिवारों की कुल संख्या के आधार पर प्रतिशत की गणना कीजिए।

- Ans
- A. 57:210
 - B. 23:101
 - C. 303:335
 - D. 303:575

Question ID : 630680179615

Status : Answered

Chosen Option : C

Q.21 किसी परीक्षा में अरुण, कुल अंकों के 22% अंक प्राप्त करता है, और 12 अंकों से अनुत्तीर्ण हो जाता है, वरुण कुल अंकों के 32% अंक प्राप्त करता है, और उत्तीर्ण होने के लिए न्यूनतम अंक (minimum marks) से 3 अंक अधिक प्राप्त करता है। परीक्षा में उत्तीर्ण होने के लिए न्यूनतम अंक ज्ञात कीजिए।

- Ans
- A. 42
 - B. 48
 - C. 40
 - D. 45

Question ID : 630680179572

Status : Answered

Chosen Option : D

Q.22 किसी परिवार के पिता और माता की मासिक आय का अनुपात 5 : 3 है और औसत ₹1,23,500 है। यदि पिता की मासिक आय में 4% की कमी होती है, और माता की मासिक आय में 8% की वृद्धि होती है, तो परिवार की मासिक औसत आय में प्रतिशत परिवर्तन ज्ञात कीजिए।

- Ans
- A. 5%
 - B. 0.6%
 - C. 6%
 - D. 0.5%

Question ID : 630680179560

Status : Answered

Chosen Option : D

Q.23 A और B, किसी कार्य को 6 दिन में पूरा कर सकते हैं। यदि A अपनी सामान्य गति की दो गुना गति से काम करे, और B अपनी सामान्य गति की एक तिहाई गति से काम करे, तो वे कार्य को $4\frac{1}{2}$ दिन में पूरा कर लेंगे। B को अपनी सामान्य गति से अकेले काम करते हुए कार्य को पूरा करने में कितने दिन लगेंगे?

- Ans
- A. 10
 - B. 12
 - C. 18
 - D. 15

Question ID : 630680179602

Status : Answered

Chosen Option : D

Q.24 एक कार्य को P, 10 दिनों में कर सकता है; Q, 15 दिनों में कर सकता है। वे 5 दिन कार्य करते हैं। शेष कार्य R द्वारा 2 दिनों में पूरा किया गया। यदि पूरे कार्य के लिए उन्हें ₹2700 मिलते हैं, तो P और Q की दैनिक मजदूरी (₹ में) कितनी है?

- Ans
- A. 180
 - B. 900
 - C. 270
 - D. 450

Question ID : 630680178013

Status : Answered

Chosen Option : D

Q.25 निम्नलिखित में से सबसे छोटे भिन्न का चयन कीजिए।

- Ans
- A. $\frac{7}{12}$
 - B. $\frac{5}{6}$
 - C. $\frac{13}{18}$
 - D. $\frac{15}{22}$

Question ID : 630680179551

Status : Answered

Chosen Option : A